



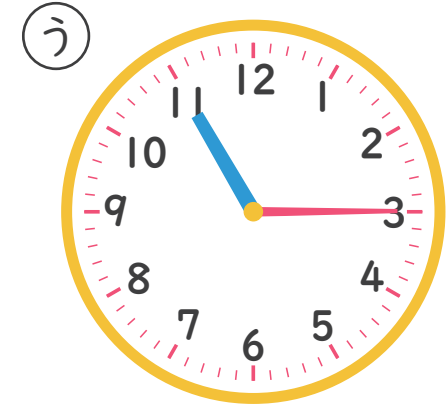
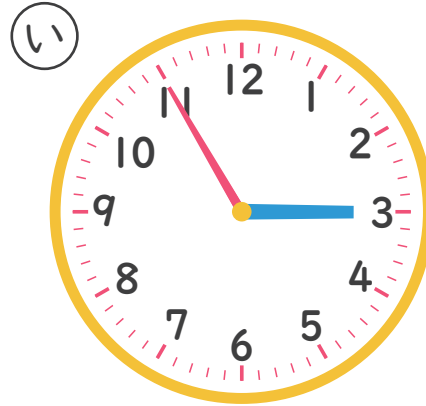
なんじなんぷん

ただしいとけいを こたえましょう！ (8)

ねん

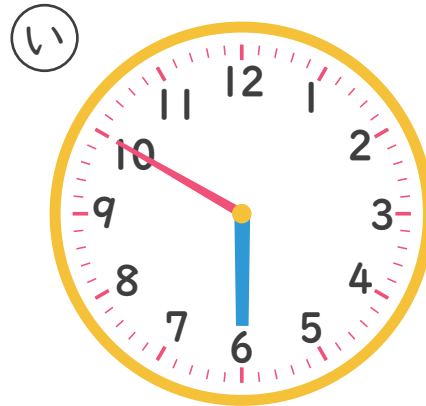
くみ なまえ

1 3じ55ふんの とけいは どれですか。



こたえ

2 10じ30ふんの とけいは どれですか。



こたえ
